



PROVA D'ACCÉS A GRAU SUPERIOR

Convocatòria de 2024

VERSIÓ CATALANA_NOA

INSTRUCCIONS DE LA PROVA

- Disposau d'**1 hora i 30 minuts** per fer la prova.
- L'examen s'ha de presentar escrit **amb tinta blava o negra**, no a llapis.
- **No** es poden usar **telèfons mòbils** ni **aparells electrònics**.
- **No** es pot entrar a l'examen amb **texts o documents escrits**.
- Les **errades ortogràfiques** descompten fins a **2 punts**.

DADES PERSONALS DE L'ALUMNE/A

Nom: _____

Llinatges: _____

DNI/NIE:

--	--	--	--	--	--	--	--	--

Qualificació:

--

Signatura de l'alumne/a:

--

Bona sort!

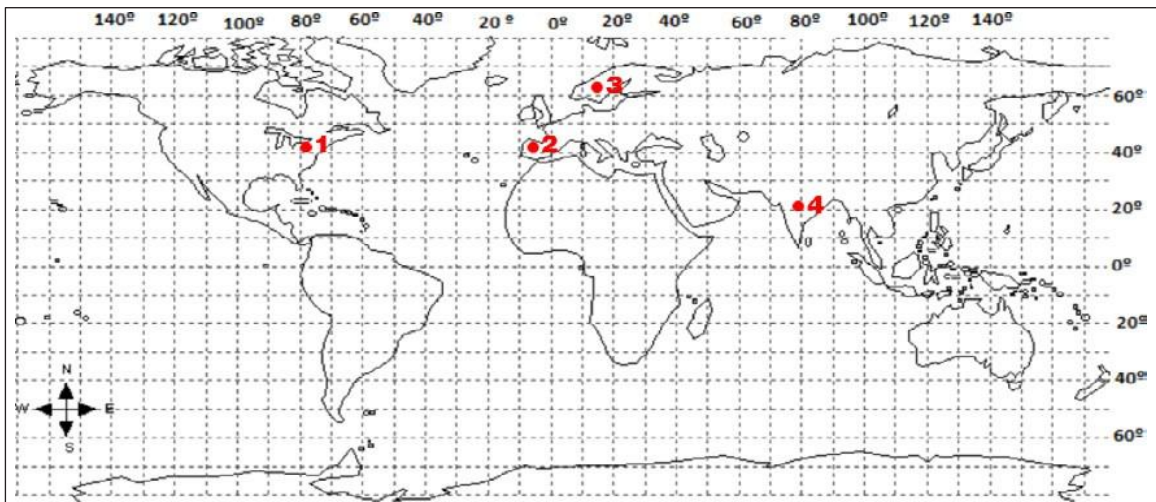
1. Contestau les qüestions següents:

a) Definiu el terme *coordenades geogràfiques*. (0,5 punts)

b) Assenyalau amb una fletxa on són el meridià de Greenwich, l'equador, el pol nord, el pol sud i els dos tròpics al globus terraqui. (0,5 punts)

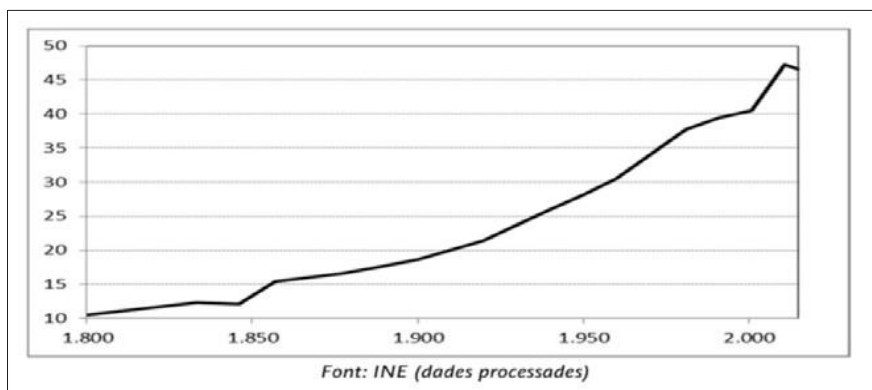


2. Donau les coordenades aproximades de les ciutats que es troben en els punts marcats al mapa. (0,5 punts)



1	
2	
3	
4	

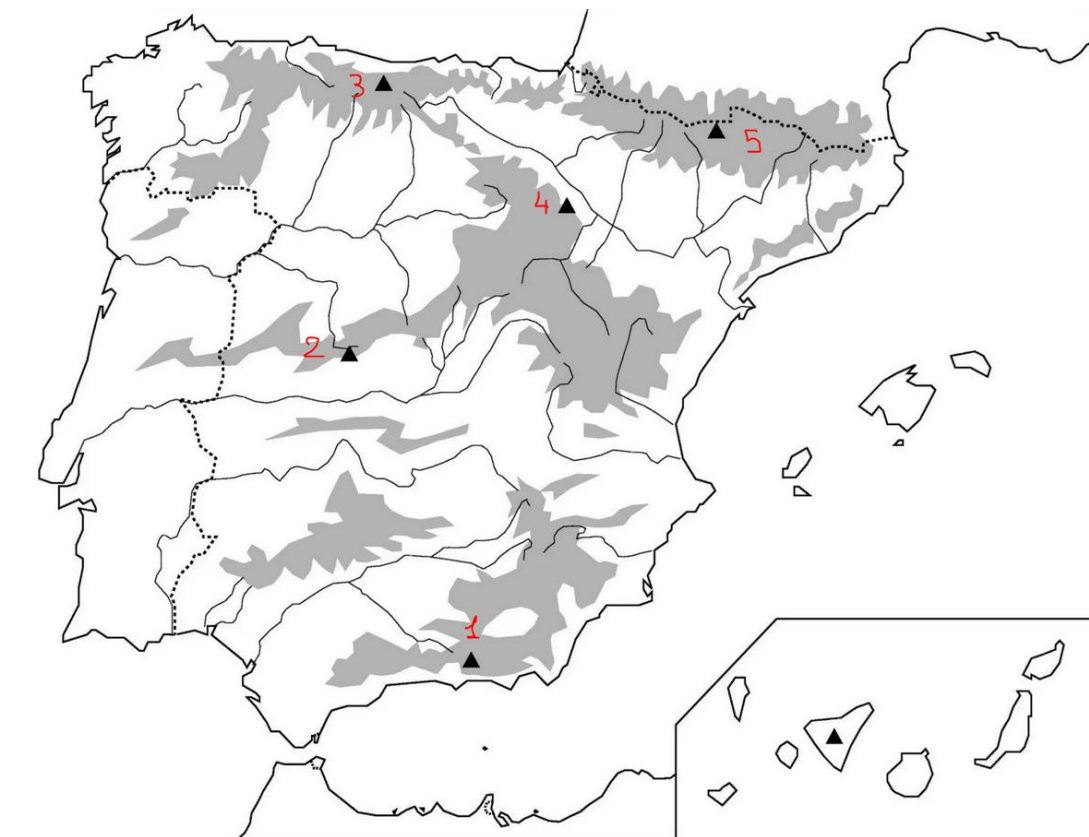
3. Contesta les qüestions plantejades a partir del gràfic següent, corresponent a l'evolució de la població espanyola (expressada en milions d'habitants) entre 1800 i 2015.



- a) Quina ha estat l'evolució de la població espanyola des de 1800? (0,5 punts)

- b) Definiu: densitat demogràfica, taxa de natalitat, creixement natural, migració, esperança de vida. (1 punt: 0,20 punts cada definició)

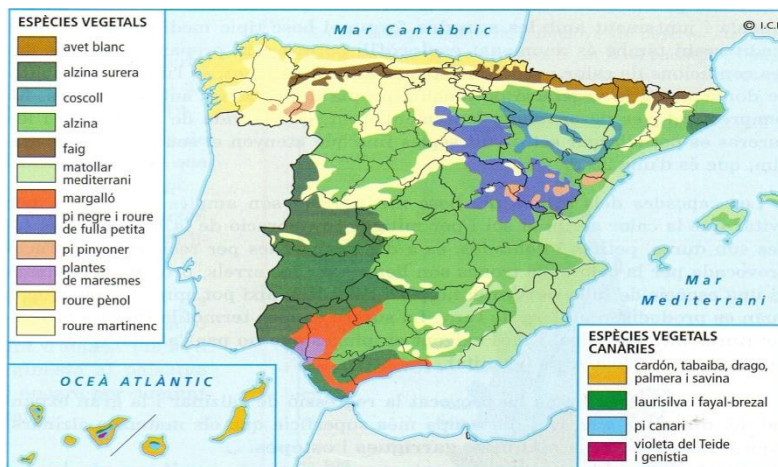
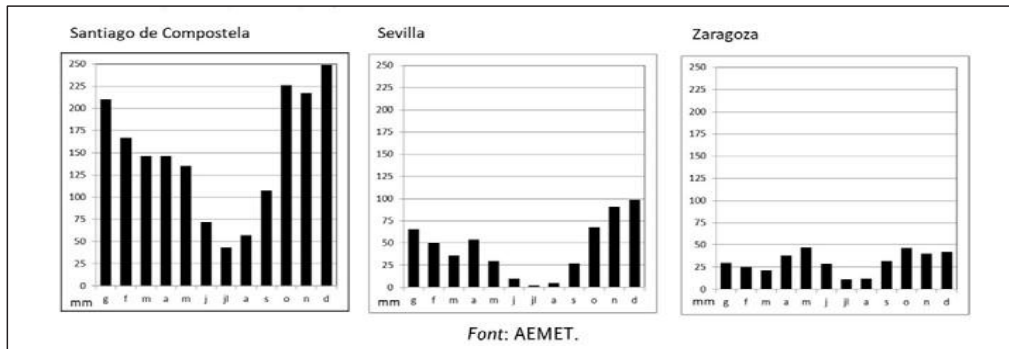
4. Responen les preguntes següents referents al mapa físic d'Espanya:



- a) Digau quins són els dos cims més alts de la península Ibèrica i el cim més alt de les Illes Balears. Situau-los al mapa amb una fletxa. (0,5 punts)
- b) Posau el nom de les serralades assenyalades al mapa. (0,5 punts)

Núm.	Nom de la serralada:
1	
2	
3	
4	
5	

5. Responen les següents preguntes a partir de la informació del mapa (formacions vegetals) i dels climogrames:



a) Explicau les diferències de precipitacions dels climogrames de Santiago de Compostel·la, Sevilla i Saragossa. Identificau almenys un tipus de clima. (0,5 punts)

b) Explicau les formacions vegetals del clima mediterrani. (0,5 punts)

6. Contesta les qüestions plantejades a continuació.

	Hotels	Càmpings	Apartaments	Turisme rural
Andalusia	71,6	9,4	16,5	2,5
Illes Balears	82,3	0,6	15,5	1,6
Catalunya	55,7	33,3	9,1	1,8
Galícia	69,2	20,4	5,5	5,0
La Rioja	41,6	48,2	5,1	5,1

Font: Processament de dades de l'INE.

a) A partir de la taula anterior, Quin tipus d'allotjament turístic predomina a les diferents comunitats? (0,5 punts)

b) Explica 5 tipus diferents de turisme en funció de l'objecte principal del viatge. (0,5 punts).

7. Responen les qüestions següents:



- a) Localitzau en el mapa 6 comunitats autònomes i 4 capitals de comunitat autònoma. (1 punt: 0,10 punts cada resposta)
- b) Definiu el terme *comunitat autònoma*. (0,5 punts)

8. Observau els plànols de dues parts d'una ciutat (l'Eixample i el centre històric) i contestau les qüestions següents:



Eixample



Centre històric

- a) Identificau les diferències entre l'eixample de la ciutat i el centre històric. Comentau les característiques de cada part. (0,5 punts)
- b) Definiu: conurbació urbana, perifèria, àrea metropolitana, megaciutat, barraquisme. (0,5 punts: 0,10 punts cada resposta)

9. A partir de la taula corresponent a la distribució de la població activa per sectors econòmics el quart trimestre de 2017 indicau quines diferències s'aprecien en la distribució per sectors econòmics de la població activa de les tres províncies? (0,5 punts).

	Sector primari	Sector secundari	Sector terciari
Almeria	29,00	11,87	59,13
Guipúscoa	0,63	31,33	68,04
Illes Balears	0,94	18,68	80,38
Espanya	4,93	20,18	74,89

Font: processament de dades de l'INE.

10. Contestau les preguntes següents sobre la Unió Europea:



- a) Quants països formen la Unió Europea? (0,25 punts)

b) Completau la taula amb els noms dels països (Estats membre), capitals i any d'incorporació a la UE. (0,5 punts: 0,05 punts cada resposta)

País (Estat membre)	Capital	Any incorporació a la UE
Espanya	Madrid	
	Luxemburg	
Irlanda		1973
Polònia		
	Bucarest	2007
Suècia		1995
Croàcia		

c) Què és el Brèxit? (0,25 punts)